

نام خانوادگی :	نام آموزگار : سرکارخانم منتظر	کلاس : چهارم
زمان : ۴۰ دقیقه	تاریخ : ۹۵/۲/۲۶	آزمون درس : اجتماعی

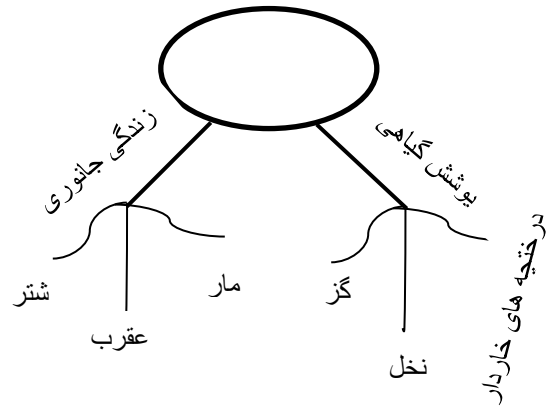
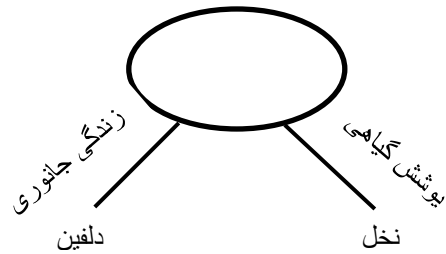
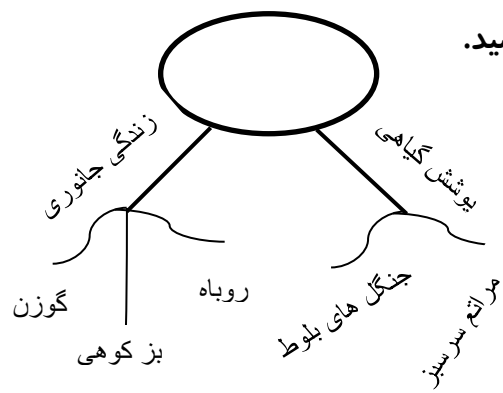
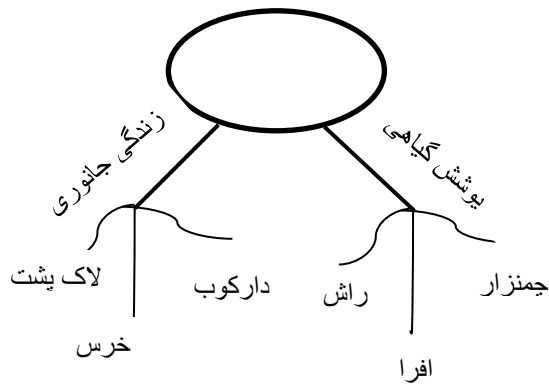
الف	پاسخ صحیح را علامت بزنید.
۱	از نشانه های ملی ما نیست. الف) پرچم <input type="checkbox"/> ب) سرود ملی <input type="checkbox"/> ج) تقویم <input type="checkbox"/> د) قانون شهرداری <input type="checkbox"/>
۲	پهناورترین جلگه ایران است. الف) مغان <input type="checkbox"/> ب) گرگان <input type="checkbox"/> ج) خوزستان <input type="checkbox"/> د) گیلان <input type="checkbox"/>
۳	به پستی و بلندی های زمین می گویند. الف) کوهپایه <input type="checkbox"/> ب) قله <input type="checkbox"/> ج) رشته کوه <input type="checkbox"/> د) ناهمواری <input type="checkbox"/>
۴	بعد از مرگ اسکندر، چه کسانی جانشین او شدند؟ الف) هخامنشیان <input type="checkbox"/> ب) سلوکیان <input type="checkbox"/> ج) اشکانیان <input type="checkbox"/> د) سامانیان <input type="checkbox"/>
۵	تخت جمشید به فرمان کدام یک از پادشاهان زیر ساخته شد؟ الف) داریوش اول <input type="checkbox"/> ب) کوروش <input type="checkbox"/> ج) اسکندر مقدونی <input type="checkbox"/> د) اردشیر <input type="checkbox"/>
۶	از مناسبت های ملی ماست. الف) عاشورا <input type="checkbox"/> ب) نیمه شعبان <input type="checkbox"/> ج) ۲۲ بهمن <input type="checkbox"/> د) عید قربان <input type="checkbox"/>
۷	موجودی که تغییر در شیوه زندگی داشته است؟ الف) مورچه <input type="checkbox"/> ب) انسان <input type="checkbox"/> ج) کبوتر <input type="checkbox"/> د) زنبور عسل <input type="checkbox"/>
۸	کدام استان ها در کنار دریای خزر قرار دارند؟ الف) اردبیل ، گیلان ، گلستان <input type="checkbox"/> ب) گلستان ، مازندران ، گیلان <input type="checkbox"/> ج) گلستان ، اردبیل ، مازندران <input type="checkbox"/> د) اردبیل ، سمنان ، مازندران <input type="checkbox"/>

۹	بین دو جهت اصلی جهت ----- وجود دارد.	<input type="checkbox"/> الف) شمالی	<input type="checkbox"/> ب) شرقی	<input type="checkbox"/> ج) فرعی	<input type="checkbox"/> د) جنوبی
۱۰	کدام یک از شهرهای زیر مرکز استان لرستان است؟	<input type="checkbox"/> الف) کرمان	<input type="checkbox"/> ب) خرم آباد	<input type="checkbox"/> ج) ساری	<input type="checkbox"/> د) زنجان
ب	جاهای خالی را با کلمات مناسب پر کنید.				
۱	مهمترین وسیله مطالعه در جغرافیا ----- است.				
۲	از ته نشین شدن آبرفت ها در کنار دریا در سال های طولانی ----- بوجود می آید.				
۳	دید و بازدید و عیدی گرفتن از مراسم ----- است.				
۴	اکنون رهبر انقلاب اسلامی ایران حضرت آیت الله ----- است.				
۵	میزان بارش را با ظرف های ----- شده اندازه گیری می کنند.				
۶	رشته کوه ----- در مغرب و جنوب غربی ایران قرار دارد.				
۷	کشور ایران در زمان اشکانیان با کشور ----- همسایه بود.				
۸	درباره زندگی انسان ها و حوادثی که در گذشته اتفاق افتاده ----- تحقیق می کنند و می نویسند.				
۹	کار ----- کشاورزی و باغداری است.				
۱۰	نوک رنگی عقربه ی قطب نما در جهت ----- قرار می گیرد.				
ج	جملات درست و نادرست را با علامت (X) مشخص کنید.				
	نادرست	درست			
۱	<input type="radio"/>	<input type="radio"/>	پولی که از راه کار کردن به دست می آورند، «بودجه» نام دارد.		
۲	<input type="radio"/>	<input type="radio"/>	علامت ها در نقشه ها با هم تفاوت دارد.		
۳	<input type="radio"/>	<input type="radio"/>	شهری که بیش از یک میلیون نفر جمعیت داشته باشد از شهرهای بزرگ است.		
۴	<input type="radio"/>	<input type="radio"/>	امام جماعت پشت سر مردم رو به قبله نماز می خواند.		
۵	<input type="radio"/>	<input type="radio"/>	دامنه ی کوههای زاگرس از جنگل های انبوه بلوط تشکیل شده است.		
۶	<input type="radio"/>	<input type="radio"/>	برای تهیه نقشه از عکس هوایی استفاده می کنند.		

	پاسخ کامل دهید.	د
	مردم در روز جمعه چه می کنند؟ (۳ مورد)	۱
	در بازدید از یک آثار تاریخی چه نکاتی را رعایت کنیم تا آسیبی به آن مکان نرسد؟ (۲ مورد)	۲
	چرا در قله های بلندکوه ها، گیاهان نمی رویند؟	۳
	آثار تاریخی تخت جمشید در کدام شهر واقع است؟	۴
	چرا شهر شیراز، مرکز استان فارس است؟	۵
	چرا در کنار دشت های وسیع حاصلخیز، روستا ها و شهرهای پرجمعیتی بوجود آمده است؟	۶

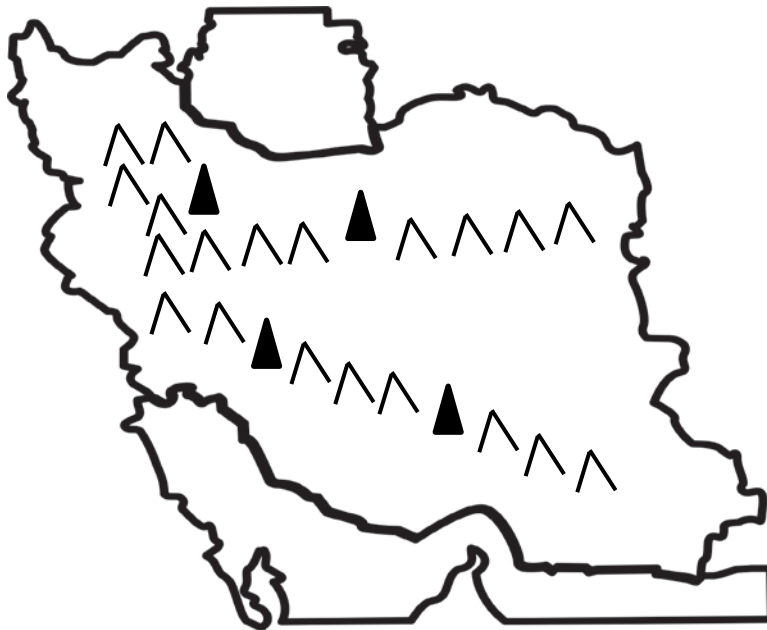
هر ناحیه آب و هوایی را با توجه به پوشش گیاهی و نوع جانوران آن ناحیه در جای مخصوص خود

بنویسید.



۷

مکان های نوشته شده را روی نقشه بنویسید.



- ۱- قله دماوند
- ۲- قله دنا
- ۳- قله زردکوه
- ۴- خلیج فارس
- ۵- دریای خزر
- ۶- دشت کویر

۸

ارزیابی	خیلی خوب	خوب	قابل قبول	نیاز به تلاش بیشتر
عملکرد دانش آموز				

