

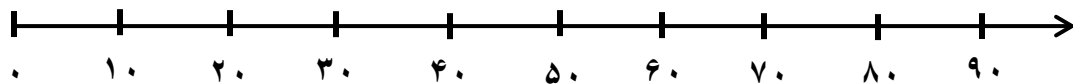
جاهای خالی را با اعداد مناسب کامل کنید.

عدد ۷۳ به ----- نزدیک تر است یا به ----- ؟

عدد ۴۶ بین کدام دو عدد صفردار قرار دارد؟ و ----- و به ----- نزدیک تر است.

حالا عددهایی که زیرشان خط کشیده شده را به صورت تقریبی روی محور اعداد نشان دهید.

۶



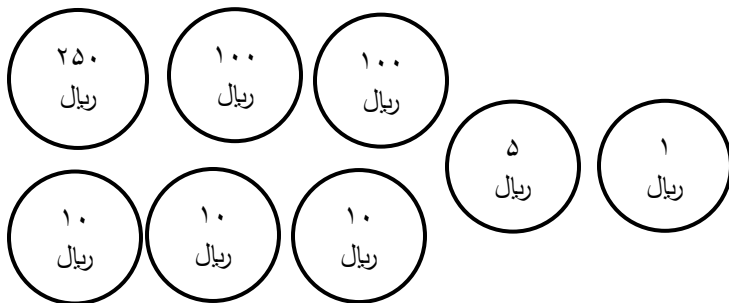
حاصل جمع و تفریق های زیر را از راه فرایندی یا گسترده نویسی به دست آورید.

$$\begin{array}{r} 345 \\ + 223 \\ \hline \end{array}$$

$$\begin{array}{r} 827 \\ - 516 \\ \hline \end{array}$$

۷

مقدار سکه های رو برو را حساب کنید.



ریال -----

۸

اکنون اگر بخواهیم یک بسته مدادرنگی به قیمت ۳۶۱ ریال بخریم چه مقدار از سکه ها را باید برداریم؟
(رنگ کنید)

یک مستطیل بکشید و داخل آن یک دایره رسم کنید. درون دایره هم یک مثلث بکشید.

گوشه های مثلث را آبی و گوشه های مستطیل را زرد کنید و خط تقارن مثلث را هم با سبز مشخص کنید.

۹

حاصل جمع و تفریق های زیر را از راه انتقال) به دست آورید.

$$\begin{array}{r} 600 \\ - 278 \\ \hline \end{array}$$

$$\begin{array}{r} 425 \\ + 379 \\ \hline \end{array}$$

۱۰

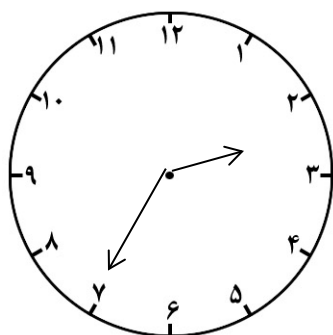
با توجه به ساعت رو برو به سؤالات زیر پاسخ دهید.

- ساعت چند است؟

- ۳۰ دقیقه ی قبل ساعت چند بوده است؟

- یک ربع بعد ساعت چند است؟

- یک ساعت و ده دقیقه ی بعد ساعت چه زمانی را نشان می دهد؟



۱۱

با حدس زدن به جای عدد مناسب قرار دهید.

$$34 + \square = 79$$

$$63 - \square = 21$$

۱۲

قد حمیده ۱۳۸ سانتی متر و قد خواهرش ۲۵ سانتی متر از او کوتاهتر است. قد خواهرش چند سانتی متر است؟

۱۳

علامت مناسب <=> در جای خالی قرار دهید.

۷۶۰ میلی متر ۷۶ سانتی متر

۲۹۹ ۵۰ - ۳۵۰

۱۴

۱۲۰ ۵۰ + ۲۰ + ۳۰

۵ سانتی متر ۲ سانتی متر و ۳۰ میلی متر

در جاهای خالی پاسخ های مناسب بنویسید.


- عدد ۴۷ را می توان به صورت ----- ده تایی و ----- قسمت از ۱۰ قسمت مساوی بیان کرد.

- ۱۰۵ میلی متر برابر است با ----- سانتی متر و ----- میلی متر.

۱۵

- ۲۰۰ میلی متر برابر است با ----- سانتی متر.

کسرهای زیر را روی شکل نشان دهید.



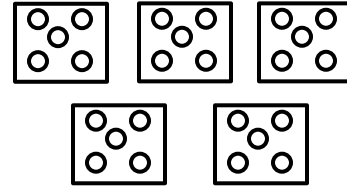

$\frac{2}{6}$



۴ قسمت از ۷ قسمت مساوی

۱۶

در جاهای خالی عدد مناسب بنویسید.






۱۷

----- تا ----- تایی می شود ----- تا

----- تا ----- تایی می شود ----- تا

اعداد زوج و فرد را به گل خودش وصل کنید.



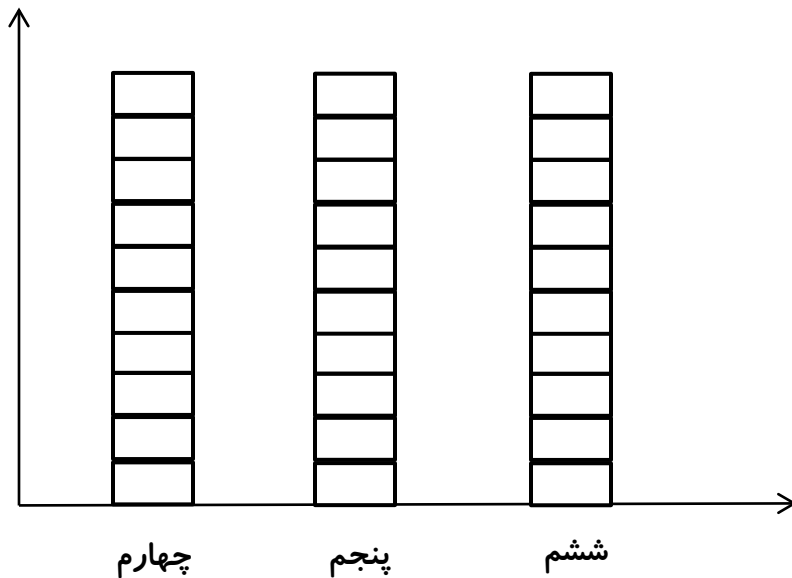
۱۸

در دبستان مطهره آزمون قلم چی برگزار شده است. پایه چهارم ۱۰ نفر، پایه پنجم ۷ نفر و پایه ششم ۴ نفر به همه سؤالات پاسخ صحیح داده اند. آن ها را روی نمودار نشان دهید.

(الف) در کدام کلاس، افراد بیش تری به سؤالات پاسخ صحیح داده اند؟

(ب) در کدام کلاس، افراد کم تری به سؤالات پاسخ صحیح داده اند؟

(ج) تعداد کل دانش آموزانی که به سؤالات پاسخ صحیح داده اند چند نفر است؟



۱۹

در جعبه ای ۵ توپ قرمز و ۷ توپ سفید است. جمله های زیر را درباره ی آن کامل کنید.

----- توپ از ----- توپ، قرمز است.

----- توپ از ----- توپ، سفید است.

اگر یک توپ از جعبه بیرون بیاوریم، شانس کدام رنگ بیش تر است؟ چرا؟

۲۰

ارزیابی	خیلی خوب	خوب	قابل قبول	نیاز به تلاش بیشتر
عملکرد دانش آموز				

