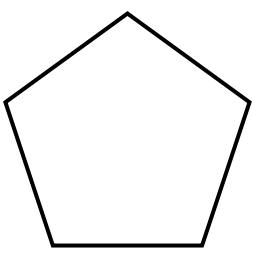
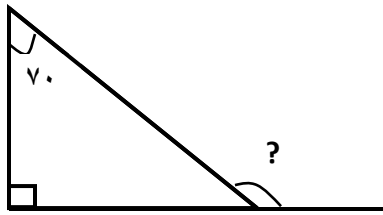


نام خانوادگی :	نام آموزگار : جناب آقای گرجی	کلاس : پنجم
زمان :	تاریخ : ۹۵/۲/۲۶	آزمون درس : ریاضی

الف	چهار گزینه ای
۱	اختلاف خمس عدد ۶۵ با ربع عدد ۵۶ کدام است؟ <input type="checkbox"/> الف) ۱۳ <input type="checkbox"/> ب) ۰ <input type="checkbox"/> ج) ۱ <input type="checkbox"/> د) ۴
۲	نیم دایره ----- خط تقارن دارد. <input type="checkbox"/> الف) ۱ <input type="checkbox"/> ب) بی نهایت <input type="checkbox"/> ج) ندارد <input type="checkbox"/> د) ۲
۳	۰/۱۲ متر چند سانتی متر است؟ <input type="checkbox"/> الف) ۱۲۰ <input type="checkbox"/> ب) ۱۲ <input type="checkbox"/> ج) ۱/۲ <input type="checkbox"/> د) ۱/۱۲
۴	هر سی سی چند قطره است؟ <input type="checkbox"/> الف) ۳۰ <input type="checkbox"/> ب) ۱۵ <input type="checkbox"/> ج) ۵ <input type="checkbox"/> د) ۱۰
ب	جای خالی
۵	از نمودار خط شکسته در چه مواقعی استفاده می کنیم؟ -----
۶	۱۰ تا ده میلیون می شود : -----
۷	واحد استاندارد اندازه گیری زاویه ----- است.
۸	اگر در یک بازی شانسی، احتمال برنده شدن بازیکنان مساوی باشد، به آن بازی ----- می گویند.
ج	صحیح و غلط
۹	عدد هفتم در الگوی مربعی ۴۹ می باشد. <input type="checkbox"/> <input type="checkbox"/>
۱۰	ارزش مکانی رقم ۸ در عدد ۱۴/۸۲، صدم می باشد. <input type="checkbox"/> <input type="checkbox"/>

پاسخ دهید.	د
<p>زنگ دبستان ساعت "۲۰:۴۵:۷ زده می شود و دانش آموزان "۱۵:۲۲:۴ را در مدرسه می باشند. مدرسه چه ساعتی تعطیل می شود؟</p>	۱۱
<p>ضرب مساحتی (رسم شکل)</p> $1\frac{1}{2} \times 1\frac{1}{3}$	۱۲
<p>عملیات زیر را انجام دهید.</p> $\left(\frac{2}{5} + 1\frac{1}{3}\right) \times \frac{1}{2} =$ $18/2 - 5/19 =$	۱۳
<p>ساده کنید.</p> $\frac{3 \times 15}{9 \times 20} =$	۱۴
<p>قیمت کتابی ۴۰۰۰ تومان است. ۲۰٪ آن را تخفیف گرفتیم. برای خرید کتاب چقدر باید پردازیم؟</p>	۱۵
<p>تمام خط های تقارن شکل را رسم کنید.</p> 	۱۶

اندازه ی زاویه ی خواسته شده را بیابید.



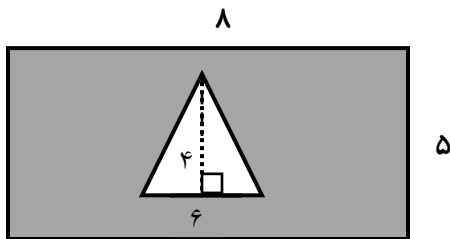
۱۷

ضرب کنید.

$$\begin{array}{r} 4/6 \\ \times 1/2 \\ \hline \end{array}$$

۱۸

مساحت قسمت رنگی را به دست آورید.

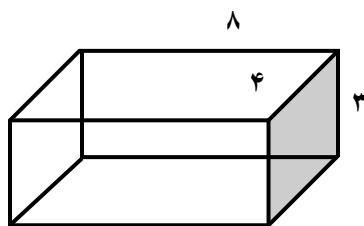


۱۹

محیط دایره ای به قطر ۵ cm را به دست آورید.

۲۰

حجم شکل را به دست آورید.



۲۱

استخری به شکل مکعب مستطیل به ابعاد ۵/۵ و ۴ و ۳ متر چند لیتر گنجایش دارد؟

۲۲

رسم نمودار ستونی

شهر	تبریز	ساری	شیراز	کرمان
میزان بارندگی	۱۰۰	۱۲۰	۶۰	۵۰

۲۳

میانگین اعداد رو به رو را حساب کنید.

$$\underline{۳۰ - ۱۸ - ۱۲}$$

۲۴

یک تاس را می اندازیم. احتمال آمدن عددهای زیر را بنویسید.

عدد ۶ ←

عدد ۹ ←

۲۵

ارزیابی	خیلی خوب	خوب	قابل قبول	نیاز به تلاش بیشتر
عملکرد دانش آموز				

توفیق رفیق راهتان

