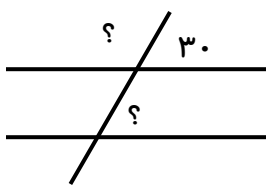
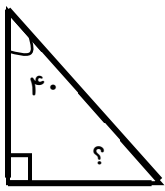


نام خانوادگی:	نام آموزگار: جناب آقای گرجی	کلاس: چهارم
تاریخ: ۹۵/۲/۲۶	آزمون درس: ریاضی	زمان:

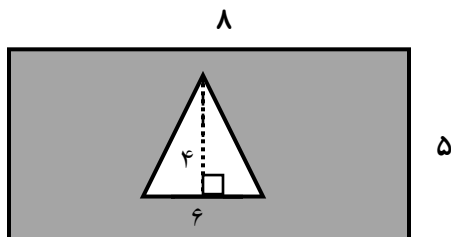
الف	چهار گزینه ای
۱	۲/۶ چندتا ۰/۱ است؟ <input type="checkbox"/> الف) ۲۰ <input type="checkbox"/> ب) ۶ <input type="checkbox"/> ج) ۲۶ <input type="checkbox"/> د) ۱۲
۲	زاویه های کنار هم در متوازی الاضلاع چند درجه است؟ <input type="checkbox"/> الف) ۹۰° <input type="checkbox"/> ب) ۱۲۰° <input type="checkbox"/> ج) ۱۸۰° <input type="checkbox"/> د) ۱۵۰°
۳	با توجه به الگویابی پاسخ دهید. ۵، ۱، ۱۰، ۱، ۱۵، ۱، ( ) <input type="checkbox"/> الف) ۲۰ <input type="checkbox"/> ب) ۲۵ <input type="checkbox"/> ج) ۱۷ <input type="checkbox"/> د) ۱۵
۴	۵۹۱۱ کیلوگرم به صورت تقریبی چند تن است؟ <input type="checkbox"/> الف) ۵ <input type="checkbox"/> ب) ۶ <input type="checkbox"/> ج) ۴ <input type="checkbox"/> د) ۹
ب	جای خالی
۵	نمودار خط شکسته جهت نمایش ----- کاربرد دارد.
۶	چهار ضلعی هستم که چهار ضلع مساوی و چهار زاویه مساوی دارم. نام من ----- است.
۷	دو خط عمود بر یک خط با هم -----
۸	۴۲ تا $\frac{1}{7}$ می شود -----
ج	صحیح و غلط
۹	۱۰۰۰ دسته ی ۱۰۰۰ تایی می شود ۱۰۰۰۰۰ تا
۱۰	عدد $2\frac{3}{5}$ بین دو عدد ۲ و ۱ قرار دارد.

پاسخ دهید.	د
ارزش مکانی رقم ۹ در عدد ۲۵۹۰۴۷۸۶۳ چیست؟	۱۱
<p>عملیات زیر را انجام دهید.</p> $\frac{4}{5} + \frac{2}{4} =$ $9/5 - 4/3 =$	۱۲
<p>جای خالی را کامل کنید.</p> <p>خمس عدد ۲۵ می شود -----</p> $\frac{2}{7} = \frac{\square}{21}$	۱۳
<p>ضرب مساحتی (رسم شکل)</p> $12 \times 24$	۱۴
<p>ضرب کنید.</p> $\frac{2}{5} \times \frac{4}{3} =$ $\begin{array}{r} 27 \\ \times 13 \\ \hline \end{array}$	۱۵
<p>تقسیم زیر را انجام دهید.</p> $921 \overline{) 32}$	۱۶
<p>زاویه ی خواسته شده را بیابید.</p>  	۱۷

چهل دقیقه بعد از ساعت ۶:۳۰ چه زمانی می شود؟

۱۸

مساحت قسمت رنگی را به دست آورید.



۱۹

نمودار ستونی رسم کنید.

درس	ریاضی	علوم	فارسی
نمره	۱۷	۱۹	۲۰

۲۰

یک تاس را پرتاب می کنیم. احتمال اتفاق افتادن موارد زیر را بنویسید.

۲۱ - عدد ۶ ظاهر شود. ←

- عدد ۹ ظاهر شود. ←

از ۷ برابر عددی، ۶ واحد کم کردیم حاصل برابر با ۶۴ شد؛ به کمک حدس آن عدد را پیدا کنید.

۲۲

علی در وسط یک صف ایستاده است. اگر او نفر دوازدهم از ابتدای صف باشد، در این صف چند نفر ایستاده اند؟

۲۳

۲۴ عدد مخلوط  $۲\frac{۱}{۳}$  را روی محور نمایش دهید.

توفیق رفیق راهتان

ارزیابی	خیلی خوب	خوب	قابل قبول	نیاز به تلاش بیشتر
عملکرد دانش آموز				

