

«بسمه تعالی»



مؤسسه آموزشی-فرهنگی میلاد طه
دبستان پسرانه سخن نو - دبستان دخترانه مطهره


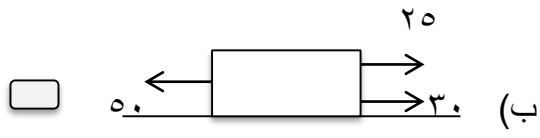
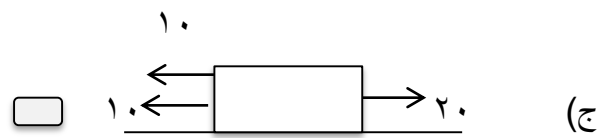
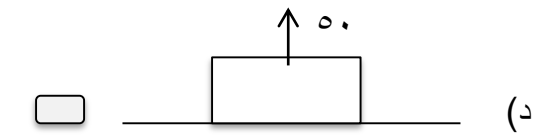


آزمون قلم - کاغذی - دی ماه

سال تحصیلی ۹۵-۹۴

نام خانوادگی :	نام دبیر : سرکارخانم محمدی	کلاس : ششم
زمان : ۴۵ دقیقه	تاریخ : ۹۴/۱۰/۲۰	آزمون درس : علوم

پاسخ صحیح را با علامت (x) مشخص کنید.

۱	برای مشاهده از کدام یک از اعمال زیر استفاده نمی شود؟ الف) دیدن <input type="checkbox"/> ب) لمس کردن <input type="checkbox"/> ج) حدس زدن <input type="checkbox"/> د) گوش کردن <input type="checkbox"/>
۲	از قسمت های مختلف درخت ----- برای تولید کاغذ مناسب نیست. الف) ریشه ی تنومند <input type="checkbox"/> ب) ساقه ی محکم <input type="checkbox"/> ج) شاخه های تنومند <input type="checkbox"/> د) تنه ی محکم <input type="checkbox"/>
۳	برای ساخت درب حمام کدام فلز مناسب تر است؟ الف) نقره <input type="checkbox"/> ب) آهن <input type="checkbox"/> ج) سرب <input type="checkbox"/> د) آلومینیوم <input type="checkbox"/>
۴	کدام یک از موارد زیر درباره ی زمین درست نیست؟ الف) زمین به شکل کره است <input type="checkbox"/> ب) هسته ی زمین سرد است <input type="checkbox"/> ج) هسته ی زمین جامد است <input type="checkbox"/> د) شعاع زمین بیش از شش هزار کیلومتر است <input type="checkbox"/>
۵	کدام یک از اثرات زمین لرزه نیست؟ الف) شکستن سد <input type="checkbox"/> ب) شیوع بیماری <input type="checkbox"/> ج) بیکاری <input type="checkbox"/> د) حاصلخیزی زمین <input type="checkbox"/>
۶	در کدام شکل جسم به سمت چپ حرکت می کند؟ الف)  <input type="checkbox"/> ب)  <input type="checkbox"/> ج)  <input type="checkbox"/> د)  <input type="checkbox"/>

در جای خالی کلمه ی مناسب بنویسید.

- ۷- ----- به معنی مجموعه دانسته های ما از جهان اطراف است که با تجربه و آزمایش به دست آمده است.
- ۸- ماده ی اصلی و خام مورد نیاز برای تهیه ی کاغذ ----- است.
- ۹- هرچه پی اچ یک اسید ----- باشد اسید قوی تر است.
- ۱۰- مواد تشکیل دهنده ی زمین در قسمت بالایی گوشته حالت ----- دارند.
- ۱۱- بخار آب و ----- از مهمترین گازهای خارج شده از آتشفشانها است.
- ۱۲- واحد اندازه گیری نیرو ----- است.

در مقابل عبارت صحیح (ص) و در مقابل عبارت غلط (غ) قرار دهید.

- ۱۳- بیشتر اتفاقات و حوادث علمی را می توان از قبل حدس زد. ()
- ۱۴- همه ی کاغذها را نمی توان بازیافت کرد. ()
- ۱۵- اسیدها را می توان در ظرف ساخته شده از سنگ نگه داری کرد. ()
- ۱۶- امواج لرزه ای فقط از بعضی از سنگهای درون زمین عبور می کند. ()
- ۱۷- هر جا آتشفشان باشد، نمی توان زندگی کرد. ()
- ۱۸- ما همواره می توانیم نیرو را مشاهده کنیم. ()

به سوالات زیر پاسخ کامل دهید.

تفاوت مشاهده با دیدن و نگاه کردن چیست؟

۱۹

پاپیروس چیست؟

۲۰

مراحل تهیه ی کاغذ از درخت را بنویسید.

۲۱

چگونه اسیدها موجب جرم زدایی از سطح اجسام می شوند؟ توضیح دهید.

۲۲

در مورد سنگ کره توضیح دهید.

۲۳

سونامی یا آب لرزه را تعریف کنید.

۲۴

تأثیرات نیرو بر اجسام را فقط نام ببرید.

۲۵

موفق باشی عزیزم

ارزیابی	خیلی خوب	خوب	قابل قبول	نیاز به تلاش بیشتر