




باسمه تعالی <b>امتحان پایه نهم شهر تهران</b> <b>خرداد ۱۳۹۵</b> <b>مطالعات اجتماعی</b>		نام خانوادگی: _____ نام: _____ کلاس: _____
صفحه ۱ از ۴	تاریخ: ۱۳۹۵/۰۳/۱۲ ساعت ۸ صبح	
مدت: ۶۰ دقیقه	سال ۱۳۹۵، سال اقتصاد مقاومتی، آدام و گل	

بخش اختیاری فصل اول تا آخر فصل ششم

دانش آموز عزیز لطفاً در این بخش فقط دو فصل را انتخاب کنید و به سؤالات همان دو فصل پاسخ دهید.

۰/۵	۱- چگونه موقعیت مکانی پدیده‌ها را روی کره‌ی زمین مشخص می‌کنند؟ الف) با استفاده از نصف‌النهارات <input type="checkbox"/> ب) با استفاده از جهت‌یابی <input type="checkbox"/> ج) با استفاده از مدارات <input type="checkbox"/> د) با استفاده از مختصات جغرافیایی <input type="checkbox"/>	فصل اول								
۰/۵	۲- حرکت وضعی را تعریف کنید.									
۱/۵	۳- جدول زیر را کامل کنید. <table border="1" style="width: 100%; text-align: center;"> <tr> <th>انواع سیارات</th> <th>مدار گردش</th> <th>جنس</th> </tr> <tr> <td>درونی</td> <td>.....</td> <td>سطوح سنگی و جامد دارند</td> </tr> <tr> <td>.....</td> <td>بزرگ‌تر</td> <td>.....</td> </tr> </table>		انواع سیارات	مدار گردش	جنس	درونی	.....	سطوح سنگی و جامد دارند	.....	بزرگ‌تر
انواع سیارات	مدار گردش	جنس								
درونی	.....	سطوح سنگی و جامد دارند								
.....	بزرگ‌تر	.....								
۰/۵	۴- گازهایی که دور تا دور کره‌ی زمین را فرا گرفته‌اند کدام یک از محیط‌های کره‌ی زمین را می‌سازند؟ الف) لیتوسفر <input type="checkbox"/> ب) اتمسفر <input type="checkbox"/> ج) هیدروسفر <input type="checkbox"/> د) بیوسفر <input type="checkbox"/>	فصل دوم								
۱	۵- افراد زیادی به قله اورست صعود کرده‌اند اما تعداد افرادی که به عمق گودال ماریانا رفته‌اند بسیار کم است. چرا؟ (دو دلیل بنویسید). ۱- ..... ۲- .....									
۱	۶- دو پیامد ناخوشایند گرم شدن کره‌ی زمین را بنویسید. ۱- ..... ۲- .....									
۰/۲۵	۷- ویژگی‌های زیر مربوط به کدام زیست بوم است؟ (یک مورد اضافه است). <table border="1" style="width: 100%; text-align: center;"> <tr> <td>بیابان</td> <td>ساوان</td> <td>تایگا</td> <td>توندررا</td> </tr> </table> <p>الف) ناحیه‌ای که دارای زمستان‌های طولانی و بسیار سرد و تابستان‌های کوتاه می‌باشد. .... ب) دارای آب و هوایی گرم در تمام طول سال است و در آن دو فصل خشک و مرطوب وجود دارد. .... ج) در این منطقه در شش ماه از سال میانگین دما کمتر از صفر درجه است و زمین همیشه مرطوب است. ....</p>	بیابان	ساوان	تایگا	توندررا	فصل سوم				
بیابان	ساوان	تایگا	توندررا							
۰/۲۵	۸- دلایل تنوع زیست بوم‌ها را نام ببرید. (سه مورد) ۱- ..... ۲- ..... ۳- .....									
۱	۹- دو راهکار صحیح و خردمندانه استفاده از منابع طبیعی را بنویسید. ۱- ..... ۲- .....									



باسمه تعالی		نام خانوادگی: نام: کلاس:
امتحان پایه‌ی نهم شهر تهران		
صفحه ۲ از ۴	خرداد ۱۳۹۵	
تاریخ: ۱۳۹۵/۰۳/۱۲ ساعت ۸ صبح	مطالعات اجتماعی	
مدت: ۶۰ دقیقه	سال ۱۳۹۵، سال اقتصاد مقاومتی، اقدام و عمل	

۰/۵	۱۰- علت اصلی رشد فوق العاده جمعیت در دو قرن اخیر چیست؟ الف) کاهش مرگ و میر <input type="checkbox"/> ب) تولید مواد غذایی <input type="checkbox"/> ج) افزایش موالید <input type="checkbox"/> د) پیشرفت وسایل ارتباطی <input type="checkbox"/>	فصل چهارم
۱	۱۱- برای هر یک از انواع مهاجرت‌های زیر یک مثال بنویسید. الف) داخلی: ..... ب) اجباری: .....	
۱	۱۲- دو مورد از علل داخلی نابرابری جهانی را بنویسید. ۱- ..... ۲- .....	

۰/۷۵	۱۳- هر یک از اقدامات زیر مربوط به کدام پادشاه صفوی است؟ گزینه‌ی مرتبط را به یکدیگر وصل کنید. (یک مورد اضافه است). الف) رسمی کردن مذهب شیعه ب) تثبیت و تحکیم حکومت صفوی ج) تشکیل سپاه جدید از افراد غیر قزلباش ۱) شاه عباس ۲) شاه اسماعیل ۳) شاه سلطان حسین ۴) شاه تهماسب (اول)	فصل پنجم
۰/۷۵	۱۴- دلایل رونق تجارت داخلی و خارجی در زمان صفویه چه بود؟ (سه مورد) ۱- ..... ۲- ..... ۳- .....	

۱	۱۵- به سؤالات زیر در ارتباط با جنگ چالدران پاسخ دهید. الف) علت وقوع جنگ چه بود؟ ب) علت شکست سپاه ایران چه بود؟	
---	--	--

۰/۵	۱۶- او کیست؟ «او به جای عنوان پادشاه لقب وکیل‌الرعیایا را برای خود برگزید.»	
-----	---	--

۱/۵	۱۷- نمودار زیر را کامل کنید. اقدامات امیرکبیر ↓ قطع نفوذ و دخالت‌های روسیه و انگلستان ↓ ↓ ↓ ↓	فصل ششم
۰/۵	۱۸- در دور دوم جنگ‌های ایران و روسیه در زمان سلطنت فتحعلی شاه قاجار سپاه ایران متحمل شکست شد و مجبور به بستن چه قراردادی گردید؟	



باسمه تعالی  
**امتحان پایه‌ی نهم شهر تهران**  
**خرداد ۱۳۹۵**  
**مطالعات اجتماعی**

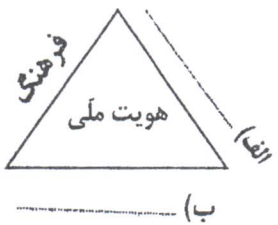
صفحه ۳ از ۴  
 تاریخ: ۱۳۹۵/۰۳/۱۲ ساعت ۸ صبح  
 مدت: ۶۰ دقیقه


نام خانوادگی:  
 نام:  
 کلاس:

دانش آموز عزیز لطفاً به همی سؤالات فصل هفتم تا دوازدهم به طور کامل پاسخ دهید. **بخش اجباری فصل هفتم تا دوازدهم**

۰/۵	۱- انقلاب مشروطه در زمان کدام شاه قاجار رخ داد؟ (الف) آقا محمد خان    (ب) ناصرالدین شاه    (ج) مظفرالدین شاه    (د) محمدعلی شاه	فصل هفتم
۰/۵	۲- بهانه‌ی متفقین برای اشغال ایران در جنگ جهانی دوم چه بود؟	
۱/۵	۳- عبارت صحیح را با ص و عبارت غلط را با غ مشخص کنید. (الف) مهم‌ترین خواسته‌ی مردم در نخستین قیام مشروطه تأسیس عدالتخانه بود.    ص    غ (ب) رهبران نهضت ملی شدن صنعت نفت، آیتاله مدرس و دکتر مصدق بودند.    ص    غ (ج) مجلس مؤسسان به طور رسمی حکومت را به رضاخان و خانواده‌ی او واگذار کرد.    ص    غ	

۰/۵	۴- علت قیام ۱۵ خرداد سال ۱۳۴۲ چه بود؟ (الف) اعتراض به تبعید امام خمینی (ره)    (ب) اعتراض به دستگیری امام خمینی (ره) (ج) مخالفت امام خمینی (ره) با کاپیتولاسیون    (د) مخالفت با مقاله توهین آمیز به امام خمینی (ره)	فصل هشتم
۱	۵- نام دو نهاد از مهم‌ترین نهادهایی که پس از پیروزی انقلاب اسلامی به فرمان امام خمینی (ره) شکل گرفتند را بنویسید. ۱- ..... ۲- .....	
۱	۶- هدف آمریکا از ایجاد تغییرات در امور اجتماعی و اقتصادی ایران چه بود؟ (دو مورد) ۱- ..... ۲- .....	

۰/۵	۷- شکل زیر را کامل کنید. (الف) ..... (ب) ..... 	فصل نهم
۱	۸- کامل کنید. (الف) نماد یعنی: ..... (ب) فرهنگ یعنی: .....	
۱	۹- هر یک از ویژگی‌های زیر مربوط به کدام نوع از انواع هویت به شمار می‌رود؟ (یک مورد اضافه است). جسمانی    روانی    اجتماعی (الف) شما دانش‌آموز پایه‌ی نهم هستید. .... (ب) شما به آینده امیدوار هستید. ....	



باسمه تعالی

امتحان پایه‌ی نهم شهر تهران

خرداد ۱۳۹۵

مطالعات اجتماعی

سال ۱۳۹۵، سال اقتصاد مقاومتی، اقدام و عمل

نام خانوادگی:

نام:

کلاس:

صفحه ۴ از ۴

تاریخ: ۱۳۹۵/۰۳/۱۲ ساعت ۸ صبح

مدت: ۶۰ دقیقه

فصل دهم

۱۰- بنیان خانواده بر چه چیزی استوار است؟

- الف) محبت       ب) مراقبت       ج) فرزندآوری       د) ازدواج

۱۱- دو مورد از فواید صلح ارحام برای خانواده را بنویسید.

۱- .....  
۲- .....

۱۲- دو مورد از پیامدهای نامطلوب تک فرزندی را بنویسید.

۱- .....  
۲- .....

۱۳- جدول زیر را کامل کنید.

ر	الف
و	ب
ق	ج

الف) مهم‌ترین رکن حکومت جمهوری اسلامی ایران است.

ب) به معنای سرپرستی است.

ج) یکی از حقوق شهروندی که بر اساس آن شهروندان حق دادخواهی دارند.

فصل یازدهم

۱۴- هر یک از موارد زیر وظیفه‌ی کیست؟ گزینه‌ی مرتبط را به یکدیگر وصل کنید. (یک مورد اضافه است).

- الف) فرماندهی کل نیروهای مسلح       ب) دفاع از کشور در زمان صلح و جنگ
- ج) برقراری نظم و امنیت و رسیدگی به اختلافات و شکایت‌ها       د) شوراها و شوراهای اسلامی شهر و روستا
- ۱) حکومت       ۲) شهروندان       ۳) رهبر       ۴) شوراها و شوراهای اسلامی شهر و روستا

۱۵- چرا حق حاکمیت بر انسان از آن خداست؟

فصل دوازدهم

۱۶- محور اصلی اقتصاد مقاومتی چیست؟

- الف) بهره‌وری       ب) افزایش تولید       ج) کاهش هزینه       د) جلوگیری از اتلاف انرژی

۱۷- دو راهکار مهم برای افزایش بهره‌وری در زندگی فردی و خانوادگی بنویسید.

۱- .....  
۲- .....

۱۸- بهره‌وری سبز یعنی چه؟

جمع کل ۲۰ نمره

«موفق باشید»

نام و نام خانوادگی مصحح:  
امضا:

نمره‌ی کتبی (بر ۴):  
با حروف:  
با عدد: